

Documents avec réponses

À l'aide d'une ligne, reliez les descriptions ou les activités suivantes à l'état d'eau correspondant.

Nager dans la piscine.

Faire du patin à glace sur un étang.

Glisser le long de la colline.

Boire un verre d'eau frais.

Faire de la raquette dans les bois.

Faire du ski nautique sur un lac.

Faire un bonhomme de neige.


Une journée d'été chaude et humide.

Gratter le givre d'une fenêtre de voiture.

Arroser le jardin.

Des nuages recouvrant les sommets des montagnes.

Marcher sous la pluie avec un parapluie.



Solide





Liquide



Gaz

Documents avec réponses




Les photos ci-dessus sont celles des flocons de neige. Combien de côtés voyez-vous sur un flocon de neige?

Un flocon de neige possède **6** côtés.

Quelle est la forme d'un flocon de neige? Un flocon de neige est un **hexagone**.

Observez les photos ci-dessous. Encerclez celles qui ont la même forme qu'un flocon de neige.



Les trois états de l'eau

2^e année : L'eau dans l'environnement

Documents avec réponses
